



MUODOT



A



B



C

Tehtävä 49: MUODOT

M158Q01- 0 1 8 9

Millä kuvioista on suurin pinta-ala? Selitä, kuinka päädyit vastaukseen.

Tehtävä 50: MUODOT

M158Q02- 0 1 8 9

Kuvaile jokin menetelmä kuvion C pinta-alan määrittämiseksi.

Tehtävä 51: MUODOT

M158Q03- 0 1 8 9

Kuvaile jokin menetelmä kuvion C ympärysmittan määrittämiseksi.