

KOLMIOITA

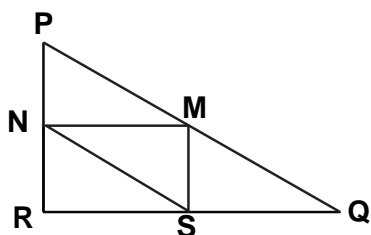
Tehtävä 1: KOLMIOITA

M161Q01

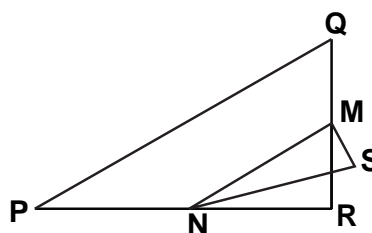
Ympyröi alla olevista kuvioista se, johon seuraava kuvaus sopii.

Kolmio PQR on suorakulmainen kolmio, jossa kulma R on suora. Jana RQ on lyhyempi kuin jana PR. M on janan PQ keskipiste ja N on janan QR keskipiste. S on kolmion sisäpuolella oleva piste. Jana MN on pidempi kuin jana MS.

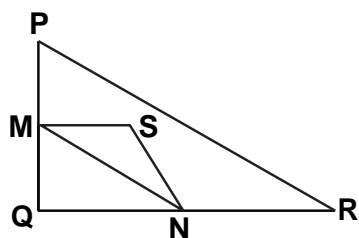
A



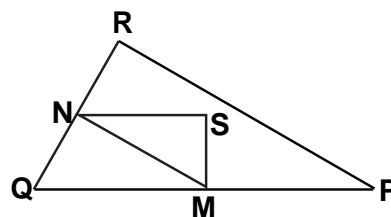
B



C



D



E

